

# CONCURSO PÚBLICO

27 / MAIO / 2012



## PREFEITURA MUNICIPAL DE PARACATU – MINAS GERAIS

### CADERNO DE PROVAS

<b>CADERNO</b> <b>08</b>	<b>CARGO:</b> <ul style="list-style-type: none"><li>• FISIOTERAPEUTA</li></ul>
<b>PROVAS:</b>	<ul style="list-style-type: none"><li>• PORTUGUÊS</li><li>• RACIOCÍNIO LÓGICO</li><li>• NOÇÕES DE INFORMÁTICA</li><li>• LEGISLAÇÃO MUNICIPAL</li><li>• ESPECÍFICA</li></ul>

#### LEIA ATENTAMENTE AS INSTRUÇÕES ABAIXO:

1. Este caderno de provas contém um total de 60 (sessenta) questões objetivas, sendo 15 de Português, 06 de Raciocínio Lógico, 06 de Noções de Informática, 08 de Legislação Municipal e 25 Conhecimentos Específicos. Confira-o.
2. Esta prova terá, no máximo, 4h (quatro horas) de duração, incluído o tempo destinado à transcrição de suas respostas no gabarito oficial.
3. Não perca tempo em questões, cujas respostas lhe pareçam difíceis, volte a elas se lhe sobrar tempo.
4. Respondidas as questões, você deverá passar o gabarito para a sua folha de respostas, usando caneta esferográfica azul ou preta.
5. Em nenhuma hipótese haverá substituição da Folha de Respostas por erro do candidato.
6. Este caderno deverá ser devolvido ao fiscal, juntamente, com sua folha de respostas, devidamente preenchidos e assinados.
7. O candidato só poderá se ausentar do recinto das provas após 1 (uma) hora contada a partir do efetivo início das mesmas.
8. Você pode transcrever suas respostas na última folha deste caderno e a mesma poderá ser destacada.
9. O gabarito oficial da prova objetiva será divulgado no endereço eletrônico [www.fumarc.org.br](http://www.fumarc.org.br), dois dias depois da realização da prova.
10. A comissão organizadora da FUMARC Concursos lhe deseja uma boa prova.

Prezado(a) candidato(a):

Coloque seu número de inscrição e nome no quadro abaixo:

Nº de Inscrição	Nome

### PROVA DE PORTGUÊS

**Instrução:** As questões de 1 a 13 estão relacionadas com o texto a seguir. Leia-o atentamente antes de responder a elas.

( \_\_\_\_\_ )

1 Ela entrou, deitou-se no divã e disse: “Acho que estou ficando louca”. Eu fiquei em silêncio aguardando que ela me revelasse os sinais da sua loucura. “Um dos meus prazeres é cozinhar. Vou para a cozinha, corto as cebolas, os tomates, os pimentões – é uma alegria! Aconteceu, entretanto, faz uns dias, eu fui para a cozinha para fazer aquilo que já fizera centenas de vezes: cortar cebolas. Ato banal sem surpresas. Entretanto, cortada a cebola, eu olhei para ela e tive um susto. Percebi que nunca havia visto uma cebola. Aqueles anéis perfeitamente ajustados, a luz se refletindo neles: tive a impressão de estar vendo a rosácea de um vitral de catedral gótica. De repente a cebola, de objeto a ser comido, se transformou em obra de arte para ser vista! E o pior é que o mesmo aconteceu quando cortei os tomates, os pimentões... Agora tudo o que vejo me causa espanto...” Ela se calou, esperando o meu diagnóstico. Eu me levantei, fui até a estante de livros e de lá retirei as “Odes Elementales”, de Pablo Neruda. Procurei a “Ode à cebola” e lhe disse: “Essa perturbação ocular que a acometeu é comum entre os poetas. Veja o que Neruda disse de uma cebola igual àquela que lhe causou assombro: “...rosa de água com escamas de cristal...” Não, você não está louca. Você ganhou olhos de poeta... Os poetas ensinam a ver.”

2 Ver é muito complicado. Isso é estranho porque os olhos, de todos os órgãos dos sentidos, são os de mais fácil compreensão científica. A sua física é idêntica à física ótica de uma máquina fotográfica: o objeto do lado de fora aparece refletido do lado de dentro. Mas existe algo na visão que não pertence à física. William Blake sabia disso e afirmou: “A árvore que o sábio vê não é a mesma árvore que o tolo vê”. Sei isso por experiência própria. Quando vejo os ipês floridos, sinto-me como Moisés diante da sarça ardente: ali está uma epifania do sagrado. Mas uma mulher que vivia perto da minha casa decretou a morte de um ipê que florescia à frente de sua casa, porque ele sujava o chão, dava muito trabalho para a sua vassoura. Seus olhos não viam a beleza. Só viam o lixo.

3 A Adélia Prado diz: “Deus de vez em quando me tira a poesia. Olho para uma pedra e vejo uma pedra”. O Drummond viu uma pedra e não viu uma pedra. A pedra que ele viu virou poema.

4 Há muitas pessoas de visão perfeita que nada veem. “Não é bastante não ser cego para ver as árvores e as flores. Não basta abrir a janela para ver os campos e os rios”, escreveu Alberto Caeiro. O ato de ver não é coisa natural. Precisa ser aprendido. Nietzsche sabia disso e afirmou que a primeira tarefa da educação era ensinar a ver. O Zen Budismo concorda e toda a sua espiritualidade é uma busca da experiência chamada “*satori*”, a abertura do “terceiro olho”. Não sei se Cummings se inspirava no Zen Budismo, mas o fato é que escreveu: “Agora os ouvidos dos meus ouvidos acordaram e agora os olhos dos meus olhos se abriram...”

5 Há um poema no Novo Testamento que relata a caminhada de dois discípulos na companhia de Jesus Ressuscitado. Mas eles não o reconheciam. Reconheceram-no subitamente: ao partir do pão “os seus olhos se abriram”. Vinícius de Moraes adota o mesmo mote no “Operário em Construção”: “De forma que, certo dia, ao cortar o pão, o operário foi tomado de uma súbita emoção ao constatar assombrado que tudo naquela mesa – garrafa, prato, facão – era ele quem fazia, ele, um humilde operário, um operário em construção”.

6 A diferença se encontra no lugar onde os olhos são guardados. Se os olhos estão na Caixa de Ferramentas eles são apenas ferramentas que usamos por sua função prática. Com eles vemos objetos, sinais luminosos, nomes de ruas – e ajustamos a nossa ação. O ver se subordina ao fazer. Isso é necessário. Mas é muito pobre. Os olhos não gozam... Mas, quando os olhos estão na Caixa dos Brinquedos, eles se transformam em órgãos de prazer: brincam com o que veem, olham pelo prazer de olhar, querem fazer amor com o mundo.

7 Os olhos que moram na Caixa de Ferramentas são os olhos dos adultos. Os olhos que moram na Caixa dos Brinquedos são os olhos das crianças. Para ter olhos brincalhões é preciso ter as crianças por nossas mestras. Alberto Caeiro disse haver aprendido a arte de ver com um menininho, Jesus Cristo fugido do céu, tornado outra vez criança, eternamente: “A mim ensinou-me tudo. Ensinou-me a olhar para as coisas. Aponta-me todas as coisas que há nas flores. Mostra-me como as pedras são engraçadas quando a gente as tem na mão e olha devagar para elas...”

8 Por isso, porque eu acho que a primeira função da educação é ensinar a ver, eu gostaria de sugerir que se criasse um novo tipo de professor, um professor que nada teria a ensinar, mas que se dedicaria a apontar para os assombros que crescem nos desvãos da banalidade cotidiana. Como o Jesus Menino do poema do Caeiro. Sua missão seria partejar “olhos vagabundos...”

(Disponível em <<http://www.rubemalves.com.br/aartedevever.htm>>: Acesso em: 2 maio 2012.)

### QUESTÃO 01

São títulos adequados para esse texto, **EXCETO**:

- a) Para ver, não basta não ser cego
- b) A arte de ver
- c) Ensinar a ver
- d) Ver para crer

### QUESTÃO 02

Assinale a alternativa em desacordo com o texto.

- a) O que vemos depende, necessariamente, do que fazemos.
- b) A função do educador é, antes de tudo, a de ensinar a ver.
- c) Não obstante a física dos olhos seja relativamente simples, o ato de ver não o é.
- d) Por contraposição à maioria dos adultos, as crianças têm um olhar lúdico.

### QUESTÃO 03

A intertextualidade está presente em todos os trechos transcritos, **EXCETO**:

- a) Sei isso por experiência própria. (2º §)
- b) Quando vejo os ipês floridos sinto-me como Moisés, diante da sarça ardente: ali está uma epifania do sagrado. (2º §)
- c) O Drummond viu uma pedra e não viu uma pedra. (3º §)
- d) “Não é bastante não ser cego para ver as árvores e as flores. Não basta abrir a janela para ver os campos e os rios.” (4º §)

### QUESTÃO 04

Em todas as alternativas as aspas foram utilizadas com a mesma função, **EXCETO**:

- a) “...rosa de água com escamas de cristal...” (1º §)
- b) Ela se calou, esperando o meu diagnóstico. Eu me levantei, fui até a estante de livros e de lá retirei as “Odes Elementales”, de Pablo Neruda. (1º §)
- c) A Adélia Prado diz: “Deus de vez em quando me tira a poesia. Olho para uma pedra e vejo uma pedra”. (3º §)
- d) “Agora os ouvidos dos meus ouvidos acordaram e agora os olhos dos meus olhos se abriram...” (4º §)

**QUESTÃO 05**

Sobre esse texto, é **INCORRETO** afirmar:

- a) O autor desenvolve sua argumentação a partir de uma narrativa.
- b) Na construção de seu texto, o autor recorre a outros autores.
- c) O texto apresenta sequências descritivas.
- d) Trata-se de um texto essencialmente narrativo.

**QUESTÃO 06**

Em todas as alternativas, a reformulação do trecho transcrito entre parênteses implica erro ou mudança de sentido, **EXCETO**:

- a) Por essa razão, isto é, pelo fato de acreditar que a função da educação é a de ensinar a ver, gostaria de propor que fosse criado um novo tipo de professor, ...  
(Por isso, porque eu acho que a primeira função da educação é ensinar a ver, eu gostaria de sugerir que se criasse um novo tipo de professor, [...] (9º §))
- b) Existe uma poesia no Novo Testamento, o qual relata a peregrinação de dois discípulos em companhia de Jesus Ressuscitado.  
(Há um poema no Novo Testamento que relata a caminhada de dois discípulos na companhia de Jesus Ressuscitado. – 5º §)
- c) “Essa perturbação visual que a atacou é banal dentre os poetas. Veja o que disse Neruda a propósito de uma cebola semelhante àquela que lhe causou assombro:  
 (“Essa perturbação ocular, a qual a acometeu é comum entre os poetas. Veja o que Neruda disse de uma cebola igual àquela que lhe causou espanto: [...] – 1º §)
- d) Drummond viu uma pedra, mas não viu uma pedra. A pedra que ele viu transformou-se em poema.  
(O Drummond viu uma pedra e não viu uma pedra. A pedra que ele viu virou poema. – 3º §)

**QUESTÃO 07**

O antecedente do pronome em destaque está **INCORRETAMENTE** indicado entre parênteses em:

- a) “Essa perturbação ocular que a acometeu é comum entre os poetas. (...) – 1º § (perturbação ocular)
- b) Veja o que Neruda disse de uma cebola igual àquela que lhe causou assombro: (...) – 1º § (o)
- c) Aconteceu, entretanto, faz uns dias, eu fui para a cozinha para fazer aquilo que já fizera centenas de vezes: cortar cebolas. – 1º § (eu)
- d) Aponta-me todas as coisas que há nas flores. – 7º § (coisas)

**QUESTÃO 08**

Segundo o texto, a poesia nos faz ver o mundo diferentemente, como se infere de:

- a) Os olhos que moram na Caixa de Ferramentas são os olhos dos adultos. (7º §)
- b) Quando vejo os ipês floridos sinto-me como Moisés, diante da sarça ardente: ali está uma epifania do sagrado. (2º §)
- c) A Adélia Prado diz: “Deus de vez em quando me tira a poesia. Olho para uma pedra e vejo uma pedra”. (3º §)
- d) O ato de ver não é coisa natural. Precisa ser aprendido. (4º §)

**QUESTÃO 09**

Hipérbole é uma figura de linguagem que consiste no exagero ao se afirmar alguma coisa, com o intuito de enfatizar o que se diz. É o que se verifica, por exemplo, em “chorei rios de lágrimas”, “já lhe disse mais de mil vezes”, etc.

Assinale a alternativa em que o trecho transcrito exemplifique adequadamente o conceito apresentado na definição acima.

- a) Há muitas pessoas de visão perfeita que nada veem. (4º §)
- b) Para ter olhos brincalhões é preciso ter as crianças por nossas mestras. (7º §)
- c) O ver se subordina ao fazer. Isso é necessário. Mas é muito pobre. (6º §)
- d) Mas existe algo na visão que não pertence à física. (2º §)

**QUESTÃO 10**

Assinale a alternativa em que a modificação na pontuação do trecho transcrito entre parênteses implique erro ou mudança de sentido.

- a) Vou para a cozinha, corto as cebolas, os tomates, os pimentões... é uma alegria!  
(Vou para a cozinha, corto as cebolas, os tomates, os pimentões – é uma alegria! – 1º §)
- b) Eu me levantei. Fui até a estante de livros e de lá retirei as “Odes Elementales” de Pablo Neruda.  
(Eu me levantei, fui até a estante de livros e de lá retirei as “Odes Elementales”, de Pablo Neruda. – 1º §)
- c) Seus olhos não viam a beleza; só viam o lixo.  
(Seus olhos não viam a beleza. Só viam o lixo. – 2º §)
- d) O ato de ver não é coisa natural. Precisa ser aprendido.  
(O ato de ver não é coisa natural. Precisa ser aprendido. – 4º §)

**QUESTÃO 11**

Quando vejo os ipês floridos sinto-me como Moisés, diante da sarça ardente: ali está uma epifania do sagrado. (2º §)

A expressão em destaque no trecho acima transcrito tem um equivalente **CORRETO** em:

- a) significação
- b) compreensão
- c) caracterização
- d) manifestação

**QUESTÃO 12**

Para construir seu texto, o autor lança mão dos seguintes recursos, **EXCETO**:

- a) narrativa de experiência pessoal
- b) inserções de discurso direto
- c) paráfrases e paródias
- d) utilização de discurso indireto

**QUESTÃO 13**

Ato banal sem surpresas. (1º §)

Todas as alternativas contêm antônimo adequado para o termo em destaque, **EXCETO**:

- a) insólito
- b) irrisório
- c) inusual
- d) inusitado

---

**Instrução:** As questões 14 e 15 estão relacionadas com o texto a seguir. Leia-o atentamente antes de responder a elas.

---

( \_\_\_\_\_ )

G. Silva

Dois pobres encarcerados,  
das mesmas penas culpados  
jaziam na mesma cela.  
À claridade da lua,  
chegam ambos à janela.  
Um vê a luz das estrelas.  
Outro a lama das ruas.

---

### QUESTÃO 14

Todos os trechos a seguir, transcritos do texto inicial desta prova, retomam a ideia central do poema, **EXCETO**:

- a) Drummond viu uma pedra e não viu uma pedra. A pedra que ele viu virou poema. (3º §)
- b) “A árvore que o sábio vê não é a mesma árvore que o tolo vê”. (2º §)
- c) Seus olhos não viam a beleza. Só viam o lixo. (2º §)
- d) Nietzsche sabia disso e afirmou que a primeira tarefa da educação era ensinar a ver. (4º §)

### QUESTÃO 15

São títulos que resumem adequadamente a temática abordada por esse poema, **EXCETO**:

- a) Individualidades
- b) Pontos de vista
- c) Noite estrelada
- d) Um e outro

## PROVA DE RACIOCÍNIO LÓGICO

### QUESTÃO 16

Um grupo de amigos pretende alugar um apartamento na praia para uma temporada pelo preço de R\$ 3 000,00, cabendo a cada um o pagamento de R\$ 500,00 para o aluguel. Como não podem pagar esse valor, decidem ampliar o grupo para que a parcela de cada um passe a ser de R\$300,00. O número de amigos que precisam convidar a mais é:

- a) 6
- b) 5
- c) 4
- d) 3

### QUESTÃO 17

A padaria de um supermercado produz, com 200 quilos de farinha, 240 quilos de pão. Quantos quilos de farinha serão necessários para fazer 3 quilos de pão?

- a) 2
- b) 2,5
- c) 3
- d) 3,5

**QUESTÃO 18**

Em uma festa há 20 homens e 25 mulheres. Sorteando-se um convidado ao acaso, qual é a probabilidade de ser um homem?

- a)  $\frac{4}{9}$
- b)  $\frac{5}{9}$
- c)  $\frac{1}{9}$
- d)  $\frac{1}{20}$

**QUESTÃO 19**

Tradicionalmente, alguns mineiros costumam comer pizza nos finais de semana. A família de José, composta por sua esposa e seus filhos, comprou uma pizza tamanho gigante cortada em 20 pedaços iguais. Sabe-se que José comeu  $\frac{2}{5}$  da pizza, sua esposa comeu  $\frac{3}{10}$  e sobraram N pedaços para seus filhos. O valor de N é:

- a) 5
- b) 6
- c) 7
- d) 8

**QUESTÃO 20**

A expressão  $8n + n^2$  representa a soma dos n primeiros termos de uma progressão. É **CORRETO** afirmar que essa é uma progressão:

- a) aritmética de razão 2.
- b) aritmética de razão 3.
- c) geométrica de razão 4.
- d) geométrica de razão 2.

**QUESTÃO 21**

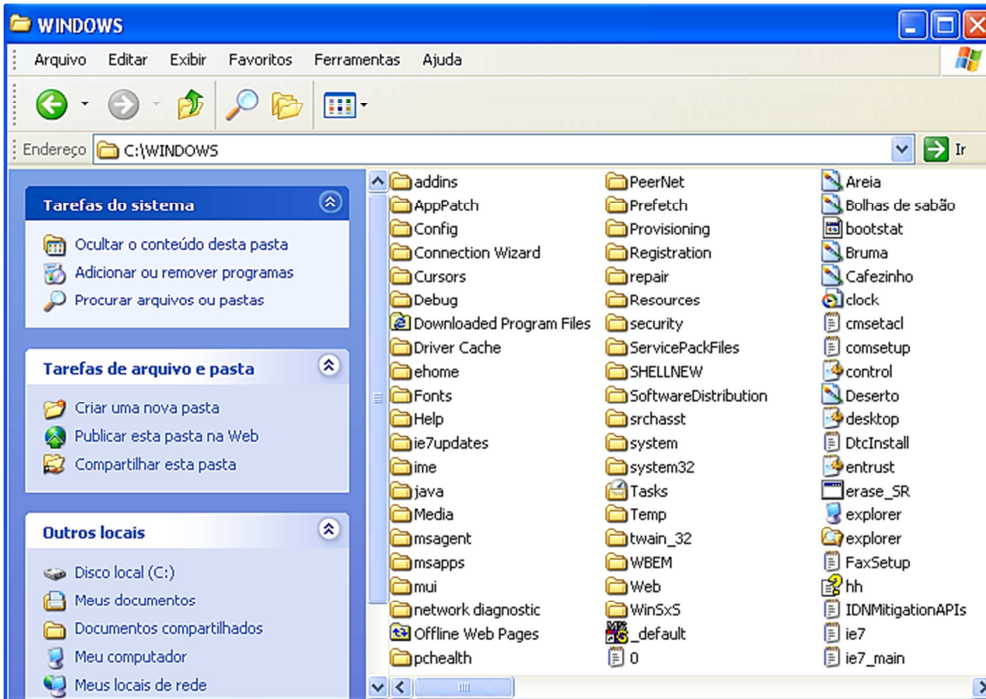
Ari, Jair e Fábio pescaram 27 peixes, sendo que Jair pescou dois terços da quantidade pescada por Ari, e Ari pescou 3 peixes a menos do que Fábio. Quantos peixes Fábio pescou?


- a) 6
- b) 8
- c) 9
- d) 12

PROVA DE NOÇÕES DE INFORMÁTICA

**QUESTÃO 22**

Considere a seguinte janela do Windows Explorer do Microsoft Windows XP, versão português:



De acordo com as opções disponíveis no botão , a janela acima é um exemplo do modo de exibição:

- Miniaturas
- Ícones
- Lista
- Lado a lado

**QUESTÃO 23**

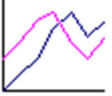



São botões disponíveis para definição da "Home Page" na guia "Geral" da janela "Opções da Internet" do Internet Explorer 7.0, versão português, **EXCETO**:

- Usar em branco
- Usar atual
- Usar padrão
- Usar pesquisa



**QUESTÃO 24**

Em relação aos tipos de gráfico disponíveis no Microsoft Excel, versão português do Office XP, julgue os itens a seguir, marcando com **(V)** a assertiva verdadeira e com **(F)** a assertiva falsa.

- ( )  é um subtipo do tipo de gráfico "Linha".
- ( )  é um subtipo do tipo de gráfico "Área".
- ( )  é um subtipo do tipo de gráfico "Rosca".
- ( )  é um subtipo do tipo de gráfico "Esfera".

Assinale a opção com a sequência **CORRETA**.

- a) V, F, F, F.  
 b) V, F, V, F.  
 c) V, V, F, V.  
 d) F, F, V, V.

**QUESTÃO 25**

Considere a planilha a seguir do Microsoft Excel, versão português do Office XP.





	A	B	C
1	1	2	3
2	3	2	1

São afirmativas verdadeiras em relação ao uso de referências a células do Microsoft Excel, versão português do Office XP, **EXCETO**:

- a) O conteúdo da célula **A2** pode ser "=**B2**\***C2**".  
 b) O conteúdo da célula **B2** pode ser "=**B1**".  
 c) O conteúdo da célula **C1** pode ser "=**A1**+**B1**".  
 d) O conteúdo da célula **C2** pode ser "=**A2**-**B1**".

**QUESTÃO 26**

São opções da barra de ferramentas "Tabelas e Bordas" do Microsoft Word, versão português do Office XP, **EXCETO**:

- a)  Classificar células  
 b)  Mesclar células  
 c)  Desenhar tabela  
 d)  Distribuir colunas uniformemente

**QUESTÃO 27**

Considere o seguinte texto do Microsoft Word, versão português do Office XP:

<i>Texto 11</i>	<i>Texto 12</i>
TEXT0 21	<del>Texto 22</del>

Analise as seguintes afirmativas sobre os efeitos da fonte "Times New Roman" utilizada no texto:

- I. O efeito "Contorno" pode ter sido utilizado para formatar o "**Texto 11**".
- II. O efeito "Versalete" pode ter sido utilizado para formatar o "TEXT0 21".
- III. O efeito "Sublinhado" pode ter sido utilizado para formatar o "~~Texto 22~~".

Assinale a alternativa **CORRETA**:

- a) A afirmativa I está errada, e as afirmativas II e III estão corretas.
- b) A afirmativa II está errada, e as afirmativas I e III estão corretas.
- c) A afirmativa III está errada, e as afirmativas I e II estão corretas.
- d) Todas as afirmativas estão corretas.

**PROVA DE LEGISLAÇÃO MUNICIPAL**

**QUESTÃO 28**

Nos termos do art.7º da Lei Complementar 05/1991 (Estatuto dos Servidores Públicos do Município de Paracatu - MG), são requisitos básicos para o ingresso no serviço público municipal, além da aprovação em concurso público, quando exigido, **EXCETO**:

- a) Gozo dos direitos políticos.
- b) Quitação com as obrigações militares e eleitorais.
- c) Idade mínima de 21 anos.
- d) Nível de escolaridade exigido para o exercício do cargo.

**QUESTÃO 29**

No que tange às férias prêmio previstas na Lei Complementar 05/1991 (Estatuto dos Servidores Públicos do Município de Paracatu - MG), é **CORRETO** afirmar:

- a) São adquiridas a cada período de 5 (cinco) anos de efetivo exercício do servidor.
- b) A pedido do servidor, poderão ser convertidas em pagamento em dinheiro.
- c) A cada período aquisitivo concedem ao servidor o direito de gozar 10 (dez) meses de férias.
- d) Para efeitos de cômputo de prazo para a aquisição de férias prêmio, só será considerado tempo de serviço o período iniciado posteriormente à aprovação no estágio probatório previsto no Capítulo V da Lei Complementar 05/1991 (Estatuto dos Servidores Públicos do Município de Paracatu - MG).

**QUESTÃO 30**

São modalidades de Licença previstas no art 73 da Lei Complementar 05/1991 (Estatuto dos Servidores Públicos do Município de Paracatu - MG), **EXCETO**:

- a) Licença para tratar de interesses particulares.
- b) Licença para tratamento de saúde.
- c) Licença por paternidade ou adoção.
- d) Licença para tratar de interesses da municipalidade.

**QUESTÃO 31**

É proibido ao servidor, nos termos do que dispõe a Lei Complementar 05/1991 (Estatuto dos Servidores Públicos do Município de Paracatu - MG), **EXCETO**:

- a) Exercer quaisquer atividades que sejam compatíveis com o exercício do cargo e com o horário do trabalho.
- b) Compelir ou aliciar outro servidor, no sentido de filiação a associação profissional ou sindical, ou a partido político.
- c) Valer-se do cargo para lograr proveito pessoal ou de outrem, em detrimento da dignidade da função pública.
- d) Ausentar-se do serviço durante o expediente, sem prévia autorização do chefe imediato.

**QUESTÃO 32**

Leia com atenção as afirmativas a seguir:

- I. Qualquer munícipe, partido político, associação ou entidade é parte legítima para denunciar irregularidades à Câmara Municipal, bem como aos órgãos do Poder Executivo.
- II. É assegurada a participação popular nas reuniões da Câmara Municipal, sem o direito de interferência nos trabalhos, salvo pelo uso da Tribuna Livre, mediante inscrição do interessado em lista especial na Secretaria da Câmara e deferimento da Mesa.
- III. A publicação das leis e dos atos municipais far-se-á em órgão oficial de divulgação ou, não havendo, na imprensa local ou regional, sendo obrigatória a afixação, em todos os casos, na sede da Prefeitura ou da Câmara Municipal.
- IV. O Prefeito poderá realizar consultas populares para decidir sobre assuntos de interesse específico do Município, de bairro e de distrito, cujas medidas deverão ser tomadas diretamente pela Administração municipal.

São **CORRETAS** as seguintes afirmativas:

- a) I e II apenas.
- b) I, II, III e IV
- c) I, III e IV apenas
- d) III e IV apenas

**QUESTÃO 33**

Nos termos da Lei Orgânica do Município de Paracatu, a atuação do Município na zona rural terá como principais objetivos, **EXCETO**:

- a) A oferta de escolas, postos de saúde, incentivos aos centros de lazer e centros de treinamento de mão de obra rural e de condições para implantação de instalação de saneamento básico.
- b) A repressão ao uso de anabolizante e ao uso indiscriminado de agrotóxicos.
- c) O incentivo ao controle da erosão, à manutenção da fertilidade e da recuperação de solos degradados.
- d) O fomento ao êxodo da população das áreas rurais para as áreas mais urbanizadas do Município.

**QUESTÃO 34**

Nos termos da Lei Orgânica do Município de Paracatu – MG, pode-se afirmar que são auxiliares diretos do Prefeito, **EXCETO**:

- a) Os Secretários Municipais.
- b) O Procurador Geral do Município.
- c) O presidente da Câmara dos Vereadores
- d) Os dirigentes de órgãos da Administração Indireta.

**QUESTÃO 35**

Conforme o disposto na Lei Orgânica do Município de Paracatu – MG, é de competência privativa do Prefeito, **EXCETO**:

- a) Contrair empréstimos e realizar operações de crédito, sem prévia autorização da Câmara Municipal.
- b) Representar o Município em juízo e fora dele.
- c) Sancionar, promulgar e fazer publicar as leis aprovadas pela Câmara Municipal.
- d) Exercer a direção superior da Administração Pública do Município.

**PROVA ESPECÍFICA DE FISIOTERAPEUTA****QUESTÃO 36**

Estão incluídas no campo de atuação do Sistema Único de Saúde – SUS:

- a) a formulação da política de medicamentos, equipamentos, imunobiológicos e outros insumos de interesse para a saúde e a participação na sua produção.
- b) a participação no controle e na fiscalização da produção, transporte, guarda e utilização de substâncias e produtos psicoativos, tóxicos e radioativos.
- c) a colaboração na proteção do meio ambiente, nele excluindo o do trabalho.
- d) a formulação e execução da política de sangue e seus derivados.

**QUESTÃO 37**

As ações e serviços públicos de saúde e os serviços privados contratados ou conveniados que integram o Sistema Único de Saúde – SUS obedecem aos seguintes princípios, **EXCETO**:

- a) integralidade de assistência, entendida como um conjunto articulado e contínuo das ações e serviços preventivos e curativos, individuais e coletivos, exigidos para cada caso em todos os níveis de complexidade do sistema.
- b) centralização político-administrativa, com direção única em cada esfera de governo.
- c) preservação da autonomia das pessoas na defesa de sua integridade física e moral.
- d) divulgação de informações quanto ao potencial dos serviços de saúde e sua utilização pelo usuário.

**QUESTÃO 38**

Em relação à participação da iniciativa privada na assistência à saúde, assinale a afirmativa **INCORRETA**.

- a) A assistência à saúde é livre à iniciativa privada.
- b) Os serviços privados de assistência à saúde caracterizam-se pela atuação, por iniciativa própria, de profissionais liberais e de pessoas jurídicas e de direito privado na promoção, proteção e recuperação da saúde.
- c) É permitida a participação direta ou indireta de empresas ou de capitais estrangeiros na assistência à saúde, salvo através de doações de organismos internacionais vinculados à Organização das Nações Unidas, de entidades de cooperação técnica e de financiamento e empréstimos.
- d) Na prestação de serviços privados de assistência à saúde, serão observados os princípios éticos e as normas expedidas pelo órgão de direção do Sistema Único de Saúde – SUS.

**QUESTÃO 39**

Vigilância de doenças é um processo sistemático de:

- a) Notificação de doenças, consolidação de dados, análise das informações e implementação de medidas de controle.
- b) Notificação de morbidade, preparação de tabelas, gráficos, diagramas e distribuição das informações coletadas.
- c) Investigação de casos, cálculo de taxas de incidência, e prevalência, análise dos dados e distribuição da informação.
- d) Coleta de dados, consolidação e análise dos dados, distribuição da informação devidamente analisada, acrescida de recomendações técnicas visando medidas de controle de doenças específicas.

**QUESTÃO 40**

O SUS institui uma política pública de saúde que visa à integralidade, à universalidade, ao aumento da equidade e à incorporação de novas tecnologias e especialização dos saberes. Apesar dos avanços acumulados no que se refere aos seus princípios norteadores, o SUS hoje ainda enfrenta, **EXCETO**:

- a) Precária interação nas equipes e despreparo para lidar com a dimensão subjetiva nas práticas de atenção.
- b) Fragmentação do processo de trabalho e das relações entre os diferentes profissionais.
- c) Fragmentação da rede assistencial dificultando a complementaridade entre a rede básica e o sistema de referência.
- d) Sistema público de saúde horizontalizado.

**QUESTÃO 41**

A Humanização do Sistema Único de Saúde pode ser entendida como, **EXCETO**:

- a) Definição de responsabilidades individuais na produção de saúde e de sujeitos.
- b) Valorização dos diferentes sujeitos implicados no processo de produção de saúde.
- c) Identificação das necessidades sociais de saúde.
- d) Compromisso com a ambiência.

**QUESTÃO 42**

Tendo em vista doenças de notificação compulsória, observe com atenção os itens a seguir.

- I. Raiva
- II. Portador de HIV
- III. Coqueluche
- IV. Sífilis Congênita

Assinale a opção em que todos os itens são doenças de notificação compulsória:

- a) I, II e III apenas.
- b) I, III e IV apenas.
- c) II, III e IV apenas.
- d) I, II, III e IV.

**QUESTÃO 43**

Leia com atenção os itens abaixo.

- I. Instituições de seguros privados de saúde.
- II. Serviços de saúde das Forças Armadas.
- III. Instituições filantrópicas.
- IV. Hospitais universitários.

O Sistema Único de Saúde inclui os seguintes órgãos:

- a) II, III e IV apenas
- b) I e III apenas
- c) I, II e III apenas
- d) I, II, III e IV

**QUESTÃO 44**

A saúde é um direito fundamental do ser humano, devendo o Estado prover as condições indispensáveis ao seu pleno exercício. Leia atentamente as afirmativas abaixo.

- I. O dever do Estado de garantir a saúde consiste na reformulação e execução de políticas econômicas e sociais que visem à redução de riscos de doenças e de outros agravos.
- II. Dizem respeito também à saúde as ações que se destinam a garantir às pessoas e à coletividade condições de bem-estar físico, mental e social.
- III. O dever do Estado exclui o das pessoas, da família, das empresas e da sociedade.
- IV. A saúde tem como fatores determinantes e condicionantes, entre outros, a alimentação, a moradia, o saneamento básico, o meio ambiente, o trabalho, a renda.

A afirmativa está **INCORRETA** em:

- a) I
- b) II
- c) III
- d) IV

**QUESTÃO 45**

Leia os itens a seguir.

- I. execução de ações de vigilância sanitária e epidemiológica.
- II. colaboração na proteção do meio ambiente, nele excluindo o do trabalho.
- III. assistência terapêutica integral, inclusive farmacêutica.
- IV. a participação na formulação da política e na execução de ações de saneamento básico.

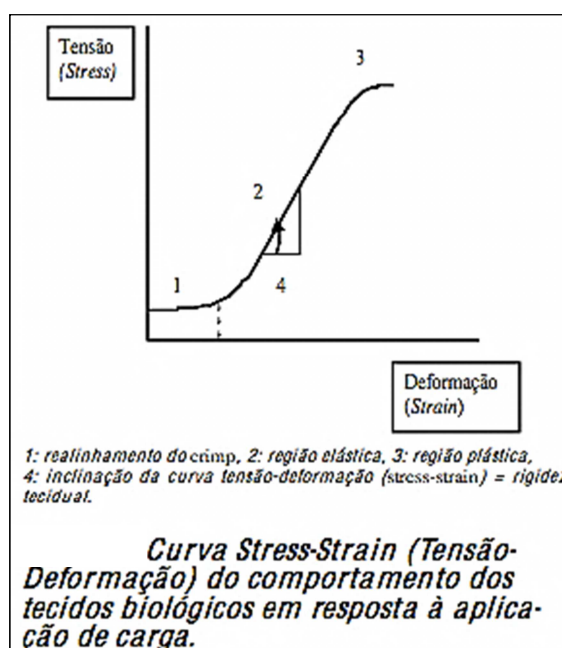
Estão incluídas no campo de atuação do Sistema Único de Saúde – SUS:

- a) I, II e III apenas
- b) II, III e IV apenas
- c) I, III e IV apenas
- d) I, II, III e IV

**QUESTÃO 46**

Analise o gráfico ao lado, considerando as propriedades físicas e mecânicas dos tecidos biológicos. A seguir, marque a afirmativa **INCORRETA**.

- a) A rigidez dos tecidos biológicos é observada pela inclinação da curva stress-strain.
- b) Histeresis é um comportamento físico caracterizado por uma deformação contínua durante a aplicação de uma carga (força) constante em um determinado período de tempo.
- c) Considerando a propriedade mecânica dos tecidos biológicos conhecida como viscoelasticidade, pode-se sugerir que todas as deformações sofridas por um tecido dentro dos seus limites fisiológicos são recuperáveis, no entanto essa recuperação não ocorre de maneira imediata.
- d) A quantidade de energia aplicada sobre um tecido para que ocorra falha ou ruptura pode ser extraída do gráfico dado calculando-se a área abaixo da curva.



(Fonte: CF, Aquino; SO, Viana; ST Fonseca, Comportamento biomecânico dos tecidos biológicos ao estresse e a imobilização, Fisioterapia em movimento, Curitiba, v.18, n.2, p.35-43, abr/jun, 2005.)

**QUESTÃO 47**

MCFR, 54 anos, pedreiro, apresenta quadro de dor na região lombar com dor referida para o terço médio posterior da coxa. A mesma se agrava com o movimento e após períodos prolongados de ortostatismo. O mesmo se encontra em processo de investigação de um possível quadro de neoplasia maligna no intestino. No exame físico apresentou: movimentos de flexo-extensão ativa limitada no meio do movimento por dor na região lombar; encurtamento severo de iliopsoas e encurtamento moderado de isquiotibiais e paravertebrais; fraqueza acentuada de transverso abdominal, dor à palpação em glúteo mínimo, glúteo médio e piriforme e nos segmentos L4-L5; ritmo lombopélvico alterado com flexão diminuída na região lombar; testes de Slump, Lasegue, Braggard, PKB negativos; teste de força muscular apresentando hipoatividade glútea.

De acordo com o caso clínico dado, escolha a conduta fisioterápica mais adequada.

- Aquecimento com termoterapia em região lombar por 20 minutos; alongamento de isquiotibiais, paravertebrais e psoas; fortalecimento concêntrico de glúteo máximo e dos músculos profundos do abdômen; inibição de trigger points com pressão isquêmica e mobilização de Maitland utilizando a técnica PACVP em L4 e L5.
- Ondas curtas contínuo e coplanar em região lombar por 15 minutos; exercícios de Williams; série de Nicholass, 3x10, alongamento de isquiotibiais, quadrado lombar e tríceps sural; TENS F 150 Hz; dois canais, 15 minutos.
- Ondas curtas pulsátil sobre a região de L4-L5; alongamento de isquiotibiais, paravertebrais e psoas; fortalecimento concêntrico de glúteo máximo e dos músculos profundos do abdômen; inibição de trigger points com pressão isquêmica e mobilização de Maitland utilizando a técnica PACVP em L4 e L5.
- Termoterapia em região lombar por 20 minutos; fortalecimento em posição encurtada de isquiotibiais, paravertebrais e psoas; alongamento dos músculos abdominais e glúteo máximo; mobilização utilizando a técnica de PAUVP de Maitland; TENS F 150Hz utilizando dois canais por 15 minutos.

**QUESTÃO 48**

O ciclo da marcha é uma sequência maravilhosamente orquestrada de eventos elétricos e mecânicos que culminam na propulsão coordenada do corpo através do espaço (Lieber, 1992). Considerando o ciclo de marcha normal do ser humano, analise as afirmativas abaixo.

No contato de calcanhar, ocorre uma contração excêntrica dos músculos dorsiflexores do tornozelo, tibial anterior, extensor longo do hálux e extensor longo dos dedos.

**PORQUE**

O ponto e a direção da aplicação das forças de reação do solo no calcanhar atrás do centro de rotação do tornozelo criam um torque de flexão plantar no tornozelo.

Analisando-se as afirmativas dadas, é **CORRETO** concluir que:

- as duas afirmativas são verdadeiras e a segunda não justifica a primeira.
- a primeira afirmativa é verdadeira e a segunda é falsa.
- as duas afirmativas são verdadeiras e a segunda justifica a primeira.
- a primeira afirmativa é falsa e a segunda é verdadeira.

**QUESTÃO 49**

Paciente SPC, 49 anos, sexo masculino, foi submetido a cirurgia de acromioplastia e reparação aberta do manguito rotador esquerdo. O paciente permaneceu imobilizado por 35 dias antes de procurar o serviço de fisioterapia. Durante a avaliação funcional, foi possível observar alamento e rotação interna das escápulas bilateralmente, grande redução da amplitude de movimento passiva e ativa em todos os movimentos do ombro direito sendo a maior limitação observada nos movimentos de rotação externa, abdução, rotação interna exatamente nesta ordem de comprometimento. E uma aderência considerável da cicatriz. Considerando o quadro clínico dado, analise as afirmativas:

- I. O fisioterapeuta responsável pelo cliente no intuito de recuperar a amplitude de movimento nos movimentos de abdução e flexão do ombro deve realizar as técnicas de mobilização da articulação glenoumeral no sentido inferior e ântero-posterior respectivamente.
- II. A fricção transversa é considerada uma boa opção para diminuir a aderência da cicatriz e reduzir as aderências entre os músculos do manguito rotador e os demais tecidos periarticulares do ombro.
- III. O padrão capsular da articulação glenoumeral está presente no quadro apresentado por este paciente.
- IV. O alamento da escápula apresentado pelo paciente sugere fraqueza do músculo serrátil anterior e a rotação interna da escápula sugere encurtamento de trapézio descendente.
- V. As únicas articulações que devem ser mobilizadas para reestabelecer todos os movimentos limitados deste paciente são as articulações glenoumeral e escápulo-torácica.

Estão **CORRETAS** apenas as afirmações:

- a) II, III e IV apenas
- b) I, II e III apenas
- c) III e IV apenas
- d) I, III, IV e V

**QUESTÃO 50**

Durante o exame físico de um paciente de 25 anos em seu consultório, um fisioterapeuta observou que o mesmo não era capaz de sustentar a contração dos músculos extensores do joelho por mais de 5 segundos, apresentava parestesia e perda de sensibilidade na região medial do joelho e, ao testar o reflexo quadricipital, observou que o mesmo apresentava hiporeflexia. Todos esses sinais foram observados apenas no membro inferior direito do paciente e levaram o fisioterapeuta a confirmar uma dor irradiada para este membro inferior. Todas as situações abaixo poderiam ocasionar os sintomas apresentados pelo paciente, **EXCETO**:

- a) Hérnia discal acometendo a raiz de L3
- b) Estenose foraminal nos segmentos L3 e L4
- c) Síndrome do piriforme
- d) Trigger point em glúteo médio e mínimo

**QUESTÃO 51**

Segundo a Associação Internacional para o Estudo da Dor (IASP), dor pode ser definida como “uma experiência sensorial e emocional desagradável que é associada a lesões reais ou potenciais ou descrita em termos de tais lesões. A dor é sempre subjetiva e cada indivíduo aprende a utilizar este termo por meio de suas experiências”. E apesar de fazer parte do dia a dia da fisioterapia, os mecanismos de controle da dor ainda não foram completamente elucidados. Considerando as teorias associadas ao controle da dor analise as afirmativas abaixo.

Ao estimular por longos períodos as fibras aferentes de diâmetro pequeno, ocorre a despolarização das mesmas, o que estimula a adeno-hipófise a liberar opiáceos endógenos como a  $\beta$ -Endorfina e dinorfina considerados peptídeos neuroativos com potentes efeitos analgésicos.

**PORQUE**

A aplicação de TENS por tempo compreendido entre 20 e 40 minutos com fases de longa duração e frequências de pulso baixas (1 a 5 pulsos/segundo) é capaz de reduzir a dor.

**Assinale:**

- a) As duas afirmativas são falsas.
- b) As duas afirmativas são verdadeiras, e a segunda não justifica a primeira.
- c) As duas afirmativas são verdadeiras, e a primeira justifica a segunda.
- d) A primeira afirmativa é verdadeira, e a segunda é falsa.



**QUESTÃO 52**

OBS, 50 anos compareceu ao consultório de fisioterapia relatando dor e parestesia de início insidioso na região do punho e mão esquerda, com sintomas se apresentado em maior intensidade no período da noite, exacerbados com movimentos bruscos do punho e com presença de rigidez matinal. A paciente relata ainda dificuldade para realizar atividades que envolvem a flexão dos dedos como segurar um copo cheio d'água. O fisioterapeuta que está avaliando a paciente suspeita que a mesma apresenta síndrome do túnel do carpo no entanto está com dúvidas com relação ao diagnóstico diferencial com outras patologias e o tratamento dessa síndrome. Considerando o quadro clínico dado, analise as afirmativas abaixo.

- I. O fisioterapeuta pode utilizar os testes Phalen, Phalen invertido e Filkestein para confirmar que a patologia em questão se trata de síndrome do túnel do carpo.
- II. Caso a paciente apresente um exame de eletroneuromiografia sem apresentar redução da velocidade de condução do nervo mediano, o fisioterapeuta terá mais uma informação para confirmar o diagnóstico.
- III. Caso seja confirmado que a paciente apresenta síndrome do túnel do carpo, a mobilização neural do nervo mediano deve fazer parte da intervenção fisioterapêutica.
- IV. O fisioterapeuta deve, antes de concluir o seu diagnóstico, investigar a possibilidade de que os sintomas não estejam relacionados a uma síndrome do desfiladeiro torácico, a uma radiculopatia cervical ou uma síndrome do músculo supinador.
- V. Caso o fisioterapeuta faça a percussão na região do túnel do carpo como descrito no teste Sinal de Tinel e o paciente relatar apenas dor na região do punho, será confirmado o diagnóstico de síndrome do túnel do carpo.

Estão **CORRETAS** apenas as afirmações:

- a) I, III, IV
- b) II, IV, V
- c) I, IV, V
- d) II, III, IV

**QUESTÃO 53**

O Sr. ABC apresenta diagnóstico de hanseníase e, na avaliação dos seus pés, foi identificado a seguinte alteração: perda da sensibilidade protetora na superfície plantar (o paciente não sente o toque leve de uma caneta esfrográfica). Nesse caso, assinale a órtese mais indicada.

- a) Não é necessário a indicação de órteses, apenas um calçado confortável.
- b) Deve-se indicar um calçado confortável e uma palmilha simples.
- c) Deve-se indicar um calçado confortável e uma palmilha moldada com barra metatarso plantar, apoio para arco e adaptação na área do calcanhar.
- d) Deve-se indicar um calçado confortável e a Férula de Harris.

**QUESTÃO 54**

Tendo como base o Guia de Hanseníase do Ministério da Saúde, analise as afirmativas abaixo.

- I. Não existe a possibilidade da presença de deformidades, causadas pela hanseníase, em um paciente curado dessa doença.
- II. Pacientes com hanseníase que não apresentam comprometimento neural ou incapacidades na avaliação inicial, não têm possibilidade de apresentar os mesmos tardiamente.
- III. As atividades de prevenção e tratamento de incapacidades físicas em pacientes com hanseníase, não devem ser dissociadas do tratamento PQT.

Marque a opção **CORRETA**.

- a) Nenhuma das afirmativas é verdadeira.
- b) Apenas uma das afirmativas é verdadeira.
- c) Duas afirmativas são verdadeiras.
- d) Todas as afirmativas são verdadeiras.

**QUESTÃO 55**

São orientações educativas básicas para os cuidados com os pés de pacientes diabéticos, **EXCETO**:

- Cortar as unhas de forma bem reta, horizontalmente.
- Examinar os pés diariamente, ou pedir a ajuda de alguém.
- Lavar os pés diariamente com água morna e sabão neutro, secando bem os pés, especialmente entre os dedos.
- Passar creme hidratante nos pés, especialmente entre os dedos.

**QUESTÃO 56**

"Junto à instabilidade postural, as quedas estão entre as grandes síndromes geriátricas e são a principal causa de acidentes com idosos" (Deliberato, 2002). As afirmativas abaixo apresentam algumas ações de um programa para a prevenção a quedas elaborado por um fisioterapeuta. Assinale aquela que está **ERRADA**.

- Indicação de Hidroterapia.
- Prescrição de exercícios para a melhora da força e do equilíbrio do idoso, com algumas restrições ao aplicar exercícios de alongamento.
- A cama deve ter uma altura entre 10 e 15 centímetros do chão, dessa forma o idoso mantém os pés apoiados bem apoiados.
- Pessoas muito idosas devem ser desestimuladas ao uso de mais de um travesseiro, para evitar sufocamento.

**QUESTÃO 57**

"Desenvolver-se é crescer, aprender e fazer coisas novas, diferentes. Cada criança tem um jeito próprio de se desenvolver" (Ministério da Saúde, 2006). No entanto, existem alguns comportamentos, movimentos, reflexos (corticais ou não) que são esperados no desenvolvimento neuropsicomotor da criança, durante o seu primeiro ano de vida. Diante disso, analise as afirmativas abaixo:

- O Reflexo Tônico Cervical Assimétrico é estimulado pela rotação da cabeça e causa a extensão dos membros para o lado em que a cabeça foi rodada e diminuição de tônus extensor com aumento da flexão dos membros para o lado occipital da cabeça. Aparece na 2ª semana de vida e desaparece no 4-6 meses.
- O Reflexo de Moro é um reflexo apresentado somente em neonatos, até os três primeiros meses de vida.
- Antes dos 06 meses de vida, o bebê já levanta a cabeça e os ombros, quando colocado de bruços, e já rola.
- Somente após os 06 meses o bebê adquire controle de tronco e consegue ficar sentado com, ou sem, apoio.

**Assinale:**

- Todas as alternativas são falsas.
- Somente uma alternativa é falsa.
- Somente duas alternativas são falsas.
- Somente três alternativas são falsas.

**QUESTÃO 58**

Quanto às técnicas e recursos utilizados com o intuito de promover desobstrução brônquica, é correto afirmar, **EXCETO**:

- A ELTGOL é uma técnica que consiste em realizar uma expiração lenta parcial com a glote aberta, estando o paciente com a região a ser desobstruída em decúbito homolateral.
- O Ciclo Ativo da Respiração é uma combinação de controle da respiração, exercícios de expansão torácica e técnica de expiração forçada.
- A efetividade do Flutter® ou do Shaker® depende do grau de cooperação do paciente, do posicionamento das peças bucais e do tipo de fluxo expiratório realizado pelo paciente.
- A pressão positiva expiratória nas vias aéreas (EPAP) é importante não só para a higiene brônquica, como também para a redução de aprisionamento aéreo, prevenção e resolução de processos atelectásicos e incremento da ventilação colateral.

**QUESTÃO 59**

Quanto à espirometria de incentivo, é **CORRETO** afirmar:

- a) Os espirômetros de incentivo são aparelhos projetados para encorajar o paciente a expirar o mais profundamente possível e isso é conseguido através do *biofeedback* visual que o aparelho fornece.
- b) Os espirômetros de incentivo podem ser classificados de acordo com o padrão de ressuscitação, ou seja, por volume ou fluxo.
- c) Os espirômetros de incentivo fluxo-dependentes apresentam esferas dentro de um ou mais cilindros, as quais são elevadas e sustentadas de acordo com o fluxo expiratório gerado pelo paciente.
- d) Os espirômetros de incentivo volume-dependentes apresentam escalas que demarcam a capacidade inspiratória alcançada, representando o volume máximo de ar inspirado após uma expiração normal.

**QUESTÃO 60**

A reabilitação cardíaca visa estabelecer a capacidade funcional comprometida após o evento coronário. Sobre a reabilitação cardíaca, é **CORRETO** afirmar:

- a) Não há a necessidade de correção dos fatores de risco coronariano associado à reabilitação cardíaca após um infarto agudo do miocárdio já que a lesão no coração já está estabelecida.
- b) A aplicação precoce de exercícios à beira do leito (fase I), seja passiva ou ativa, combate e evita as complicações da imobilização prolongada como redução da capacidade funcional, redução da volemia e do rendimento cardíaco.
- c) Um objetivo geral da reabilitação cardíaca é restaurar a capacidade funcional e social do paciente, mas qualquer atividade laborativa deve ser suspensa por pelo menos dois anos por oferecer grande risco de um novo evento cardiovascular.
- d) O treinamento aeróbico produz aumento da  $D(a-v)O_2$ , aumentando a necessidade de um esforço maior pelo sistema cardiovascular para suprir os tecidos de sangue oxigenado.

**CONCURSO PÚBLICO****PREFEITURA MUNICIPAL DE PARACATU – MG.****EDITAL 01/2012*****PARA VOCÊ DESTACAR E CONFERIR O SEU GABARITO.***

01		13		24		37		49	
02		14		26		38		50	
03		15		27		39		51	
04		16		28		40		52	
05		17		29		41		53	
06		18		30		42		54	
07		19		31		43		55	
08		20		32		44		56	
09		21		33		45		57	
10		22		34		46		58	
11		23		35		47		59	
12		24		36		48		60	



[www.fumarc.org.br](http://www.fumarc.org.br)  
[fumarcconcursos@pucminas.br](mailto:fumarcconcursos@pucminas.br)